

ACTIVIDADES DE REPASO TEMAS 2 LAS REVOLUCIONES LIBERALES

1. EXPLICA LA DIFERENCIA ENTRE LAS SIGUIENTES PAREJAS DE CONCEPTOS

Jacobinos y Girondinos, Liberalismo y Nacionalismo, Sociedad Estamental y Sociedad de Clases, Monarquía absoluta y Monarquía liberal, Sufragio Censitario y Sufragio Universal, Monarquía y República

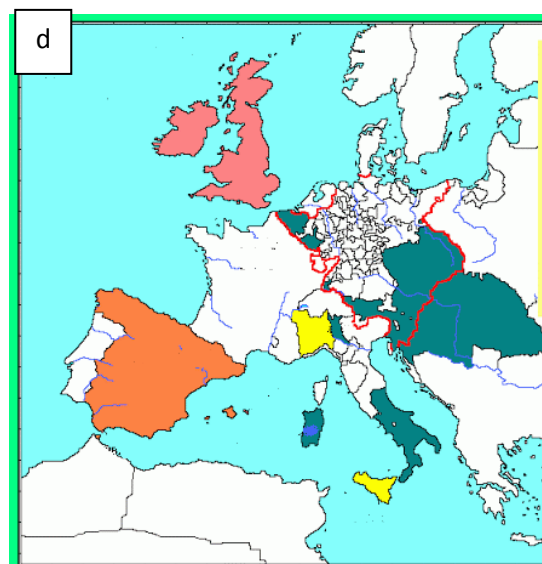
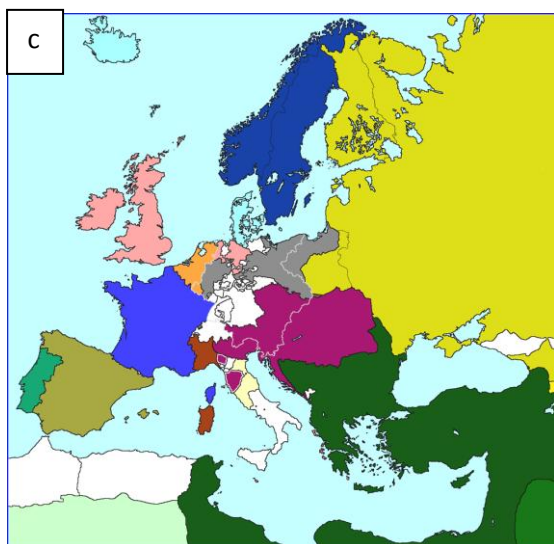
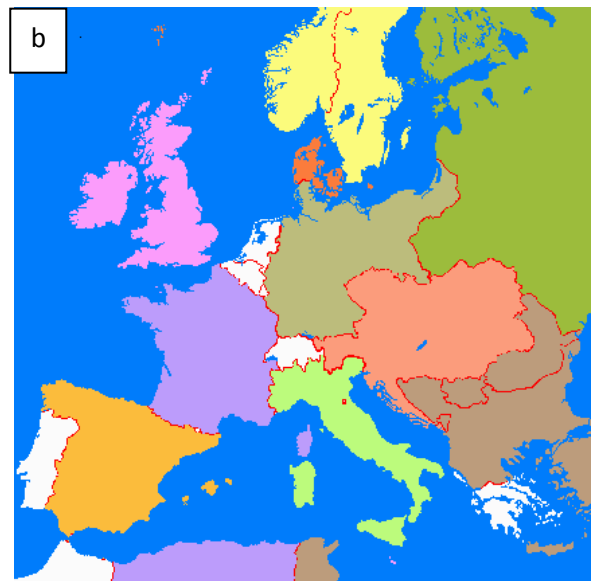
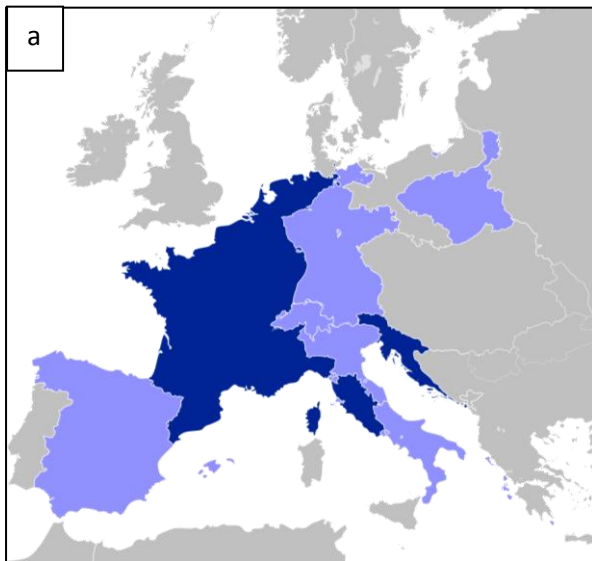
2.PREGUNTAS CORTAS

- El estallido de la revolución francesa se explica a teniendo a factores de tipo ideológico, social y económico. Pon ejemplos en cada caso
- ¿Por qué crees que la Monarquía Constitucional establecida en Francia en 1789 contó con la oposición del rey, la nobleza, el clero y las clases populares?
- ¿Qué balance podemos hacer del Imperio Napoleónico?
- ¿Qué semejanzas encuentras entre las unificaciones italiana y alemana?

3. INDICA SI LAS SIGUIENTES AFIRMACIONES SON VERDADERAS O FALSAS Y CORRIGE LAS ERRÓNEAS

- En los Estados Generales el voto era por cabezas y no por estamentos
- Con Robespierre se estableció en Francia una República democrática
- En la batalla de Trafalgar Napoleón venció a los ingleses
- La crisis del Imperio Napoleónico se inicia a partir de 1804
- Tras el Congreso de Viena se produce la vuelta al absolutismo en Francia con Carlos X
- La unificación italiana se completó con la anexión de Alsacia y Lorena tras un enfrentamiento con Francia
- Los sans-culottes pertenecían a las clases medias
- Los jacobinos representaban los intereses de la pequeña y media burguesía
- La unificación alemana fue encabezada por Prusia
- La monarquía de Luis Felipe de Orleans defendió los intereses de las clases populares

4. RELACIONA CADA FECHA CON UN MAPA: 1713, 1812, 1815, 1871 Y EXPLICA POR QUÉ LO HAS AVERIGUADO



5. INDICA SI LAS SIGUIENTES REVOLUCIONES FUERON DE CARÁCTER LIBERAL, DEMOCRÁTICO O NACIONALISTA, Y EN ESTE ÚLTIMO CASO SI EL NACIONALISMO FUE DISGREGADOR O INTEGRADOR.

REVOLUCIONES DE 1820	REVOLUCIONES 1830		REVOLUCIONES DE 1848		
Grecia	Bélgica	Francia	Francia	Italia	Alemania

6. IDENTIFICA Y DESCRIBE LAS SIGUIENTES IMÁGENES



7. RELACIONA CADA FECHA CON EL ACONTECIMIENTO O ACONTECIMIENTOS CORRESPONDIENTES:

- 1789
- 1792
- 1794
- 1799
- 1804
- 1815
- 1830
- 1848
- 1870
- 1871